


ACTIVIDAD DE CIENCIAS SOCIALES

Profesor: **Oscar Benitez B.**

Grados: **6-3,6-4**

Plazo: **3 semanas a partir del 27 de octubre.**

Enviar al correo: 
oscarbenitez@ieramonarcila.cali.edu.co

ACTIVIDAD 2 DEL III PERIODO

1. Dibuja el mapa y ubica las primeras 4 civilizaciones del mundo.
2. Lee las paginas 69, 70, 71 y 72 y responda las preguntas que aparecen en la parte de debajo de la página 70.
3. Lea las páginas 73,74 y 75 y responda las 10 preguntas de página 73
4. Lea la pagina 76 y escriba su nombre completo en caracteres egipcios.
5. Lea y complete los cuadros de la página 78.
6. Lea y elabore un resumen o mapa conceptual tema por tema de las paginas 79, 80,81 y 82.
7. Complete la actividad de las paginas 84.
8. Lea y resume tema por tema las páginas 85 y 86

ACTIVIDAD DE MEJORAMIENTO

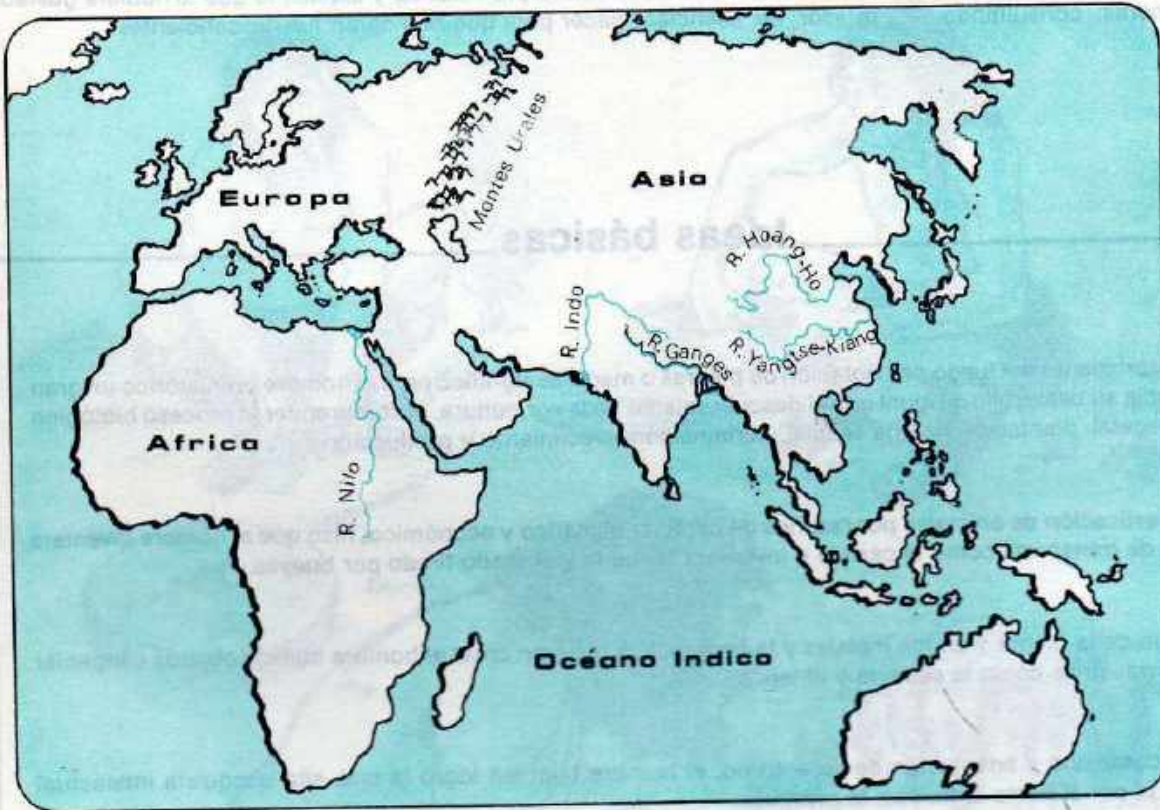
Desarrolle los talleres y actividades que no entregó en el periodo I y II y reenvíelos bajo el título: RECUPERACIÓN PERÍODO Y

ANTES DEL 15 DE NOVIEMBRE

Primeras civilizaciones en Africa y Asia

PROBLEMA 6: ¿Cómo fue el hábitat donde el hombre desarrolló las primeras civilizaciones?

Observa e interpreta



Observa el mapa y piensa si estas masas continentales siempre habrán estado unidas o separadas. ¿Qué nombre le darías a la unión de Europa y Asia? ¿Son dos o tres continentes? ¿Qué nombre recibe cada uno de ellos? ¿Qué observas dentro y fuera de ellos?

Saca tus conclusiones sobre el tema.

- Comenta tus conclusiones del punto anterior con tus compañeros.
- Las conclusiones del primer paso te llevan a otros interrogantes tales como: ¿Cuál de los continentes es más extenso? ¿Cuál menos? ¿Cuál es el más rectilíneo en sus costas? ¿Cuál el más accidentado? ¿Qué tipo de relieve predomina en cada uno? (mesetas, llanuras, cordilleras). ¿Los tres continentes son iguales? ¿Cómo han evolucionado?

Analiza e investiga

Estudiar la acción del hombre en el medio geográfico en cada momento histórico, además de interesante, resulta más funcional y pedagógico porque se analiza de manera integrada el espacio y el tiempo como momentos de la historicidad del hombre; es decir, el hombre a lo largo del tiempo va transformando y adecuando su hábitat para solucionar sus necesidades.

Para desarrollarlos puedes consultar un atlas geográfico, un mapa físico, un planisferio físico y un texto de geografía universal. Consulta los términos nuevos de la unidad. No olvides reforzar algunos conceptos geográficos de importancia, tales como latitud, zonas latitudinales, hemisferio.

Actividad #2 III periodo

Un hecho es importante cuando puede ser utilizado en un contexto específico.

El hecho de que los sumerios utilizaran el sistema de escritura cuneiforme es importante porque es el primer sistema de escritura que utilizó signos pictográficos.

A MESOPOTAMIA

Elabore mapa conceptual


69

LOS HABITANTES DE MESOPOTAMIA Y LA ECONOMÍA



El primer Código, rey sumerio mesopotámico de Lagash (2400 años antes de Cristo) (Museo del Louvre, París).

Investiga en una enciclopedia y redacta en tu cuaderno un párrafo acerca de la importancia del código de Hammurabi. En nuestra sociedad de igual forma existen las leyes. La principal de ellas es la Constitución Nacional. Consulta e infórmate sobre cuatro deberes y cuatro derechos que tienes como miembro de la sociedad.



Reconstrucción de la puerta de Uruk. Esta es la más hermosa de las ocho entradas de la ciudad de Uruk, y estaba dedicada a la diosa de la guerra y el amor: Ishtar.

16

Los acadios

Entre los años 2450 y 2350 a. de C., los acadios, un pueblo que habitaba al norte de Mesopotamia, invadió las ciudades sumerias. El rey Sargón de Akad ordenó eliminar las fronteras entre las ciudades, formando así el primer gran imperio, que iba desde el golfo Pérsico hasta el mar Mediterráneo. Tras la muerte de Sargón los acadios fueron invadidos por los habitantes del noreste de Mesopotamia, los gutios o "dragones de las montañas". Bajo el poder de los gutios resurgieron los sumerios comandados por el rey Gudea.

Los babilonios

Hacia el año 1900 a. de C. Mesopotamia fue invadida de nuevo, esta vez por los elamitas, provenientes de Persia, y los amorritas, provenientes de Arabia. Los amorritas fundaron Babilonia, que se convirtió en la capital del imperio, unificado por el rey Hammurabi. La obra más importante de Hammurabi fue la creación de un código de leyes.

Los asirios

Al norte de Babilonia, en la margen izquierda del río Tigris, habitaban los asirios, un pueblo de guerreros que poseían armas de hierro. Invadieron Babilonia bajo el mando del rey Senaquerib, hacia el año 1500 a. de C. Algunos siglos más tarde, se aliaron los babilonios con los medos, habitantes de Persia, y arrasaron el imperio asirio y su capital Nínive.

Babilonia alcanzó un gran esplendor con el rey Nabucodonosor. En el año 539 a. de C., fue invadida nuevamente, esta vez en forma definitiva, por Ciro el rey de Persia.

La economía

La base de la economía en Mesopotamia fueron la ganadería y la agricultura. Esta última tuvo un desarrollo especial gracias a la fertilidad de la tierra, a los sistemas de riego ideados por los sumerios y al invento del arado.

La industria se desarrolló al lado de los templos, donde había talleres para elaborar objetos de cerámica. El descubrimiento de la metalurgia, sirvió para mejorar las herramientas y las armas de guerra. El invento más importante hecho por los sumerios fue la rueda, utilizada inicialmente en el transporte y la guerra.

SANTILLANA


SANTILLANA

70

Leer...

DOCUMENTOS

LA ESCRITURA



Tableta con escritura cuneiforme descubierta en las Ruinas, y que data de hace 3400 años.

El intercambio comercial exigía llevar las cuentas de las operaciones. También los recaudadores de impuestos tenían que anotar lo que pagaba cada ciudadano. Por esto, la civilización mesopotámica dio origen a uno de sus inventos más importantes: la escritura. Al principio la representación de los objetos era muy exacta, pero con el tiempo se fue simplificando y estilizando hasta llegar a los signos.

El procedimiento para llegar al invento de la escritura fue el siguiente: valiéndose de pedazos de caña cortada y afilada en forma de cuña, grababan objetos o animales sobre trozos de arcilla blanda. Por la forma de cuña de las cañas empleadas, esta escritura recibió el nombre de cuneiforme. Al principio los sumerios utilizaban unos 600 caracteres diferentes. Después llegaron a identificar los 20 ó 30 sonidos básicos, representados por otros tantos símbolos.

LA ARQUITECTURA

Las construcciones más características de las ciudades mesopotámicas fueron los templos, los zigurats y los palacios reales. Estas edificaciones estaban construidas sobre terraplenes y, como se carecía de piedra, eran edificadas con ladrillos y arcilla.

Los cimientos eran de excelente calidad. Para la construcción de murallas éstos tenían una profundidad equivalente a la altura que iban a tener los muros.

LOS JARDINES COLGANTES DE BABILONIA

Como una maravilla extraordinaria, que los antiguos incluyeron entre las siete del mundo, estaban los jardines colgantes de Babilonia.

En las inmediaciones de la puerta de Ishtar las excavaciones han puesto al descubierto una serie de construcciones abovedadas que sostenían la tierra que mantenía los jardines.

Responde:

ANALIZA

- De los aportes culturales legados por Mesopotamia a la humanidad, ¿cuál te llama más la atención? ¿Por qué?
- Investiga sobre otros inventos y creaciones de la civilización mesopotámica. Haz un breve informe acerca de uno de ellas.

87

- 1 Por qué los ciudadanos de Mesopotamia necesitaban la escritura
- 2 Cómo fue el proceso para llegar a la escritura
- 3 Cuáles son los símbolos utilizados al principio
- 4 Cómo se llamó su escritura

Como en arquitectura
Tiene una forma de escritura

MESOPOTAMIA: GEOGRAFÍA Y PRIMEROS POBLADORES



El real cenotafio de Ur
 Ur era una de las ciudades-Estado más importantes de Mesopotamia. En la capital urrita. Hacia 1930 se descubrió junto a los muros de Ur un cenotafio de rey, ahora que permaneció enterrado durante 6300 años. Los cenotafios son de rey, reina, príncipes y otros sacerdotes, nobles, altas jerarquías de diáconos de oro y pedras preciosas. A su lado aparecen signos de oro, incienso, joyas y cerámicas decoradas. La muerte de un rey a una reina era muy terrible por la sociedad, que creía que debía morir cuando moría su esposo o su hijo.

El medio geográfico

Entre los ríos Tigris y Eufrates existe una inmensa llanura aluvial inundable. Este valle, localizado en una región con clima semiárido, se caracterizó por la fertilidad de los suelos. Las características de ese lugar, donde había abundante pasto y agua para el ganado, permitieron que los grupos de nómadas que la habitaron hacia el año 6000 a. de C., empezaran a organizarse en comunidades.

Un espacio abierto

Cuando hablamos de la organización de las civilizaciones mesopotámicas también debemos hablar de las primeras ciudades y, en consecuencia, de un modo de vida muy diferente al que el hombre había llevado hasta entonces.

A diferencia de otros pueblos cuyas fronteras naturales los protegían de posibles invasores, Mesopotamia era un lugar abierto, e incluso un lugar de paso obligado para los países vecinos. Esta es una explicación que nos ayuda a entender el porqué de la presencia de cuatro pueblos diferentes en el desarrollo de su cultura.

Los sumerios

Los sumerios dieron inicio a la población mesopotámica, ubicándose en la parte baja de los ríos Tigris y Eufrates hasta la costa del golfo Pérsico. En este lugar, en el año 4500 a. de C., levantaron sus chozas de paja y barro, domesticaron animales e iniciaron una particular organización social.

Hacia el año 3500 a. de C. los sumerios ya habían construido las primeras ciudades del mundo. Con ellos nació el sistema de ciudades-Estado, las cuales eran independientes unas de otras, tenían una organización propia y un sistema de gobierno autónomo. Cada ciudad tenía su dios particular, leyes y costumbres propias.

Para los sumerios el templo era la sede del gobierno, de la ciencia, de la economía y del comercio. Junto al templo solía edificarse una enorme torre característica de la cultura mesopotámica que recibía el nombre de zigurat.

La persona que gobernaba esta ciudad-Estado era el rey, quien también desempeñaba las funciones de jefe religioso, o mediador entre el dios y los ciudadanos. Quienes colaboraban directamente con él recibían el nombre de artesanos; luego venían los artistas, los artesanos, los agricultores, los pastores y finalmente los esclavos. Estos eran capturados durante las guerras que sostenían las ciudades entre sí, generalmente por problemas de fronteras.

Un templo se llama templo porque es un lugar grande donde se hacen las ceremonias religiosas.

Delo era demostando las labores la usarp las labores otro están venían otro están Empezaban a la

*** Responde:**
 • ¿Por qué crees que enterraban a sus muertos con objetos valiosos?
 • ¿Qué diferencia hay entre las tumbas egipcias hoy en día con la tumba de la ilustración?

Lea...

DOCUMENTOS

MESOPOTAMIA ANTIGUA



Mesopotamia antigua.

MESOPOTAMIA EN LA BIBLIA

En muchos libros del Antiguo Testamento, cuyo contexto histórico coincide con el desarrollo de la cultura mesopotámica, repetidamente se mencionan los lugares y personajes de esta región.

Por ejemplo, de la ciudad de Ur salió Abraham para fundar el pueblo de Israel, según lo narra el libro del Génesis. Muchas veces los israelitas fueron invadidos por los pueblos de la Mesopotamia, según consta en el Segundo Libro de los Reyes. También los israelitas fueron llevados cautivos a Babilonia, según los Salmos y otros de sus libros.

En Babilonia encontramos al profeta Daniel en la corte del rey Nabucodonosor, poco antes de que éste fuera vencido por Ciro, rey de los persas, tal como se narra en el libro de este profeta.



Abraham, fundador de Israel.

* Responde...

ANALIZA


- ¿Qué relación encuentras entre la ubicación de Mesopotamia y la de Israel?
- ¿Qué nombres de ciudades te son familiares?
- Busca en la Biblia dos pasajes que se relacionen con algún pueblo de la Mesopotamia.

EGIPTO

Presuma:

73

LA CIVILIZACIÓN EGIPCIA: ECONOMÍA Y SOCIEDAD



Faraón Menes II y su esposa Neferit, Egipto.

La civilización Egipcia aparece a orillas del río Nilo, el cual es el río más largo del mundo, ubicado en África.

Como todas las civilizaciones antiguas, necesitaban del Nilo para poder regar sus campos sembrados aprovechando que cada año el río Nilo se desbordaba y fertilizaba la tierra. Actividad #

1. ¿Cuál fue la principal actividad económica de los Egipcios?
2. ¿Cómo se llamaba el gobernante Egipcio?
3. ¿Cómo controlaban los egipcios las aguas que necesitaban?
4. ¿Cómo consideraron los egipcios al faraón?

Un hecho se hace más interesante cuando de una línea lo pones en un libro de historia.

Investiga: ¿A que se dedicaban la población en la época de sequías?

Lea el tema Ayer y hoy de la p. 77 y explique.

¿Qué importancia tienen los nombres Ra, Osiris, Horus e Isis en la religión egipcia?

¿Qué significa el hecho de que los egipcios fueran politeístas?

¿Por qué usaban los egipcios utilizaban las técnicas de embalsamamiento?

Para: ¿Algunas las famosas pirámides de Egipto fueron construidas por extraterrestres. ¿d que opina (Mimmo Frangola)?

9. Escriba Lea la página 75 y responda las preguntas al final.

10. Investigue en Casa acerca de los Egipcios (una página)

La economía

La sociedad egipcia fue principalmente agrícola y su autoridad máxima, el faraón, era responsable de la alimentación de su pueblo. Por esta razón, dirige todas las actividades económicas de acuerdo con el ciclo de inundación, siembra y cosecha.

La posibilidad de lograr buenos cultivos dependía de la regularidad de las crecidas del río Nilo. Por eso, los funcionarios del Estado se preocupaban por desarrollar los trabajos necesarios para la canalización de las aguas del Nilo y generar el riego artificial. La agricultura estaba complementada con la ganadería y la caza.

Organización social y política

Egipto era un imperio unido bajo el poder divino del faraón, considerado como un dios con muchos poderes, manifestados en su calidad de jefe religioso, político y militar. Al faraón le seguían los visires, jefes regionales que contaban con numerosos funcionarios y escribas. Los funcionarios se ubicaban en tres planos diferentes: en el religioso se encontraban los sacerdotes; en el militar los oficiales del ejército y en el civil los escribas.

La mayoría de la población se ubicaba en un mismo grupo social, conformado por los artesanos y los campesinos, quienes trabajaban sus propias tierras. En las épocas de sequía eran utilizados como trabajadores en la construcción de canales, templos, palacios, sepulcros, caminos y pirámides. El último estamento de la sociedad estaba constituido por los esclavos, que no tenían ningún tipo de derechos.

Etapas de desarrollo

Con el rey Menes se inició la primera dinastía. A partir de este momento la historia de Egipto puede dividirse en tres grandes periodos:

- El Imperio Antiguo: consolidó la unificación y la estructura del nuevo Estado.
- El Imperio Medio: vivió el triunfo de la monarquía centralizada y logró un periodo de prosperidad, que fue interrumpido por la invasión de los hitos, pueblo nómada procedente de Asia.
- El Imperio Nuevo: constituyó la época de mayor esplendor de la civilización egipcia. En esta etapa la monarquía centralizada obtuvo sus mayores logros, especialmente bajo los reinados de Tutmosis III, Amenofis IV y Ramsés II.

Lea AYER Y HOY

74


EL APROVECHAMIENTO DE LAS AGUAS DEL NILO

En el pasado, y durante siglos, los egipcios supieron utilizar el régimen de las aguas del río Nilo, garantizando el desarrollo de la agricultura y la supervivencia de las especies que habitaban las riberas del río.

Los faraones habían intentado retener el agua del Nilo en grandes embalses para prevenir las sequías, pero sin mucho éxito. Hoy la técnica moderna ha hecho realidad los sueños de aquellos tiempos. La represa de Asuán, orgullo del Egipto de hoy, ha permitido aumentar en más de un 30 por ciento su suelo cultivable.

Sin embargo han surgido nuevos problemas. Gran parte del fértil cieno transportado por las aguas del Nilo se sedimenta tras el muro de contención de la represa, haciendo que haya descendido el índice de producción de las tierras que no reciben el mismo cieno. Así mismo, el gran tamaño de la represa hace que el nivel de evaporación sea tan alto que nunca se pueda llenar el embalse.

Por otra parte, el cambio en el régimen de las aguas del río Nilo, a raíz de la construcción de la represa, ha causado graves daños ecológicos.




La represa de Asuán.

* Responda... Responde:

- ¿Crees que el desarrollo de la tecnología y de la ciencia redundan necesariamente en beneficio del hombre? ¿Por qué?
- ¿Qué relación encuentras entre desarrollo y ecología? ¿Te parecen afines o contradictorios? ¿Por qué?

VALORES

¿HAY JUSTIFICACIÓN?



Pirámides de Egipto.

La civilización egipcia legó a la humanidad obras grandiosas en los campos del arte, la ingeniería y la arquitectura.

A pesar de esto, es necesario constatar que detrás de la magnífica herencia cultural se oculta el sacrificio de un número indeterminado de personas que fueron víctimas del despotismo y la crueldad de los sistemas de gobierno propios de aquellos tiempos.

* Responda:

- ¿Qué reflexión te sugiere el sacrificio de personas, en aras de la grandiosidad de un imperio como el egipcio?

ACTIVIDADES COMPLEMENTARIAS

INVESTIGA

Indudablemente el modo de vida de los hombres sufrió un cambio muy importante cuando se iniciaron las primeras civilizaciones.

Teniendo en cuenta la forma de vida de los hombres primitivos y la de los pueblos que habitaron Mesopotamia y Egipto, busca la información necesaria para completar el siguiente cuadro.

	Vivienda	Vestido	Forma de producción	Herramientas	Artes
Mesopotamia					
Egipto					

Lee...

PIENSA Y OPINA

EL CÓDIGO DE HAMMURABI

En el código de Hammurabi, escrito hace cerca de 4000 años, se contemplaban normas y castigos como los siguientes:

- Obligaciones de los profesionales: "Un médico por descuido deja que su paciente pierda un ojo, al médico se le cortará la mano. Si el techo de una casa se derrumba sobre su dueño, el constructor pagará una fuerte multa, o pena de muerte en caso de que muera el dueño".
- El cuidado de los campos: "Si alguien es tan perezoso que no mantiene su acequia en buenas condiciones y no vigila la presa; si por descuido deja que se rompa ésta y se inunda el campo del vecino, el dueño de la acequia será vendido y con el precio se pagarán los daños causados".



Este es el Hammurabi conservado en el Museo de Louvre (París), en la que se halla grabado el código o compilación de leyes creado por dicho rey.

Luego de leer con atención las normas anteriores, piensa y responde sobre las siguientes preguntas:

Responde:

- ¿Qué aspectos positivos y negativos encuentras en las anteriores normas? Explica tu respuesta.
- ¿Te parece que algunas de estas normas pueden tener vigencia en la actualidad? ¿Por qué?


Lee...

TÉCNICA DE TRABAJO

LA ESCRITURA EGIPCIA O EL JUEGO DE LOS JEROGLÍFICOS

Un aspecto importantísimo de la cultura egipcia fue el de la escritura.

El alfabeto usado por los egipcios fue descifrado a comienzos del siglo XIX por el estudioso francés Champollion, al analizar una piedra con inscripciones descubierta por soldados franceses cuando cavaban una trinchera. Esta piedra recibe el nombre de "piedra de Rosetta", por el lugar donde fue hallada.



Alfabeto jeroglífico egipcio y su equivalente en español.

La técnica empleada por Champollion para descifrar la piedra de Rosetta se apoyó en sus conocimientos del griego. Encontró una palabra entre los jeroglíficos: Ptolomía (Tolomeo) y lo comparó con el nombre de Kleopatra, que figuraba en un escrito de la reina, ya conocido. Las letras p y l se repetían idénticas en los dos escritos. Y así fue, letra a letra, identificando todos los signos.



P T O L M Y S



K L E O P A T R A

Éste fue la clave...

En el gráfico del recuadro puedes observar el resultado del trabajo de Champollion.

Con base en los signos del alfabeto jeroglífico egipcio, puedes dibujar los nombres de los faraones Tintosis, Amenofis, Ramsés u otras personalidades egipcias que te llamen la atención.

Responde

EVALUACIÓN

1. ¿Cuál de los inventos desarrollados en Mesopotamia ha sido más decisivo para el progreso de la humanidad? ¿Por qué?
2. ¿Cuáles son las principales características de los periodos en que se dividió la historia de Egipto?
3. ¿Qué aspectos hacen que el río Nilo sea un elemento indispensable para la economía egipcia?
4. ¿Cómo estaba organizada la sociedad egipcia?

* Escribe su nombre en caracteres Egipcios. Lee un libro de Cartolina

• SANTILLANA • SANTILLANA

El hecho de que
 se hayan podido
 conservar hasta
 hoy en día
 estas obras de
 arte es un
 milagro.


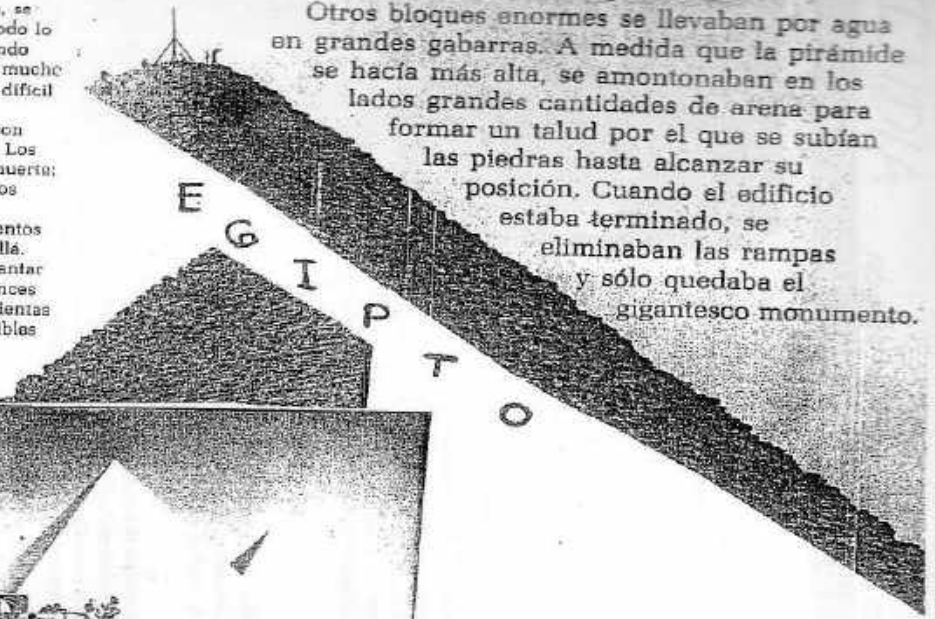
La construcción de las pirámides

En Gizeh, cerca del río Nilo, en Egipto, se alzan tres pirámides enormes. Ellas son todo lo que queda de las Siete Maravillas del mundo antiguo. Las otras fueron destruidas hace mucho tiempo. Pero son tan macizas que resulta difícil imaginar que pudieran venirse abajo.

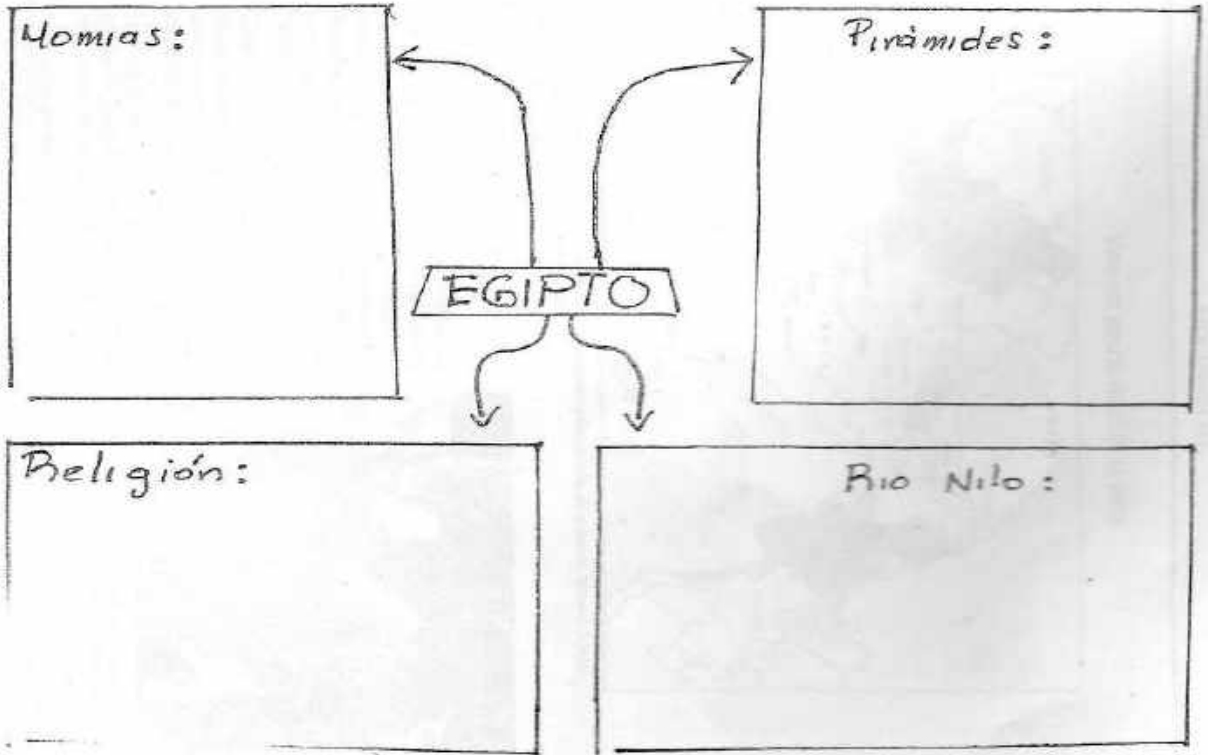
¿Para qué fueron construidas? Se hicieron como tumbas inmensas para los faraones. Los egipcios creían en la vida después de la muerte; así pues, cuando enterraban a sus reyes, los cuerpos de éstos eran especialmente preservados. Con ellos se enterraban alimentos y bebida para el viaje al mundo del más allá.

Imagínate lo difícil que tuvo que ser levantar unos edificios así hace tanto tiempo. Entonces no había grúas, ni excavadoras, ni herramientas de hierro. Las únicas herramientas disponibles eran muy simples: ascoplos de cobre y sierras; martillos de piedra y escudras de madera. Pero lo que tenían los egipcios era fuerza muscular; y cientos de miles de hombres trabajaban como obreros. Cortaban grandes bloques de piedra de las canteras cercanas; y los transportaban sobre rodillos de piedra.

Otros bloques enormes se llevaban por agua en grandes gabarras. A medida que la pirámide se hacía más alta, se amontonaban en los lados grandes cantidades de arena para formar un talud por el que se subían las piedras hasta alcanzar su posición. Cuando el edificio estaba terminado, se eliminaban las rampas y sólo quedaba el gigantesco monumento.



Completa el mapa conceptual.



INDIA 79 resume el texto en su cuaderno

INDIA: GEOGRAFÍA, ECONOMÍA Y SOCIEDAD



Templo hindú.

Localización geográfica

La India es una gran península ubicada al sur de Asia. Se encuentra limitada al sur por el océano Índico, la cordillera del Himalaya al norte, el mar Arábigo al oeste y el golfo de Bengala al este.

Ubicada en la zona tropical, la India tiene todos los climas y su relieve es muy variado. En la parte norte se encuentran enormes montañas cubiertas de nieves perpetuas en donde las temperaturas son muy bajas. Al contrario, la parte sur del país presenta mesetas, llanuras, selvas y un clima extremadamente caluroso.

Las regiones de mayor importancia son aquellas que están regadas por los ríos Indo y Ganges. Son las tierras más fértiles, pues se benefician tanto de las crecidas de ambos ríos, como de los vientos monzones de verano que traen grandes lluvias, las cuales facilitan la agricultura.

La economía

En la primera etapa de la civilización del valle del Indo, los habitantes eran principalmente agricultores, cultivaban el algodón —que es originario de la India—, el trigo, la cebada y el arroz.

Al igual que en las civilizaciones de Mesopotamia y Egipto, los ríos de la India fueron fundamentales para el desarrollo de la comunidad. También utilizaron el arado de madera tirado por bueyes como en Mesopotamia y Egipto.

Paralelamente a la agricultura se desarrolló la ganadería, constituida principalmente por vacunos de tipo cebú, pero posteriormente, debido a las enseñanzas de los libros sagrados que señalaban a las vacas como animales sagrados, estos animales dejaron de ser sacrificados y consumidos.

Con la llegada de los arios, que más que agricultores eran pastores, también llegaron el caballo y la oveja.

La sociedad

A partir de la denominada "época védica" (1500 a 330 a. de C.) la sociedad se organizó de acuerdo con la mayor o menor perfección espiritual de sus miembros (ver pirámide social).

Según esta división social, no había ninguna posibilidad de cambiar de casta, ya que la jerarquía había sido determinada por los dioses.

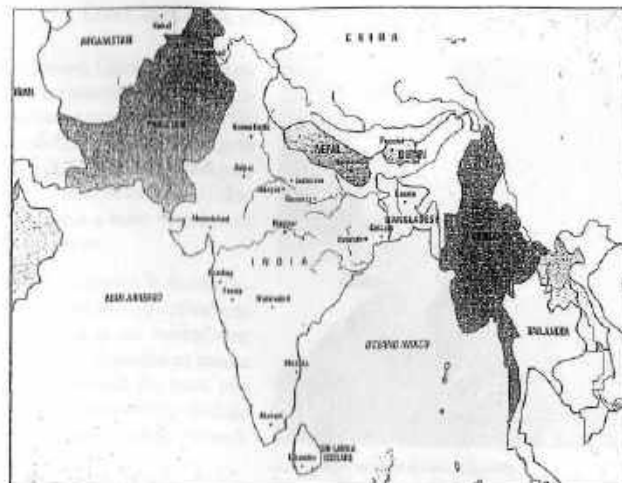
* *Responde...*

Investiga

- ¿Qué productos hindúes se consiguen en Colombia?
- ¿En qué consiste la reencarnación entre los hindúes?
- ¿Qué son los Upanishd?

DOCUMENTOS

MÁPA DEL ESPACIO FÍSICO DE LA INDIA



En la actualidad, el espacio físico indio está constituido por varios países, entre los que se destacan, además de la propia India, Pakistán y Sri Lanka (la antigua Ceilán).

CREENCIAS MILENARIAS

El hinduismo o brahmanismo está considerado como una de las religiones más antiguas del mundo. Enseña que todo hombre posee un alma inmortal y que al morir, si en vida se comportó religiosamente, se reencarnará en una persona de casta superior; pero si no lo hizo así, reencarnará en una de casta inferior e incluso en un animal.

Cuando la persona alcanzó durante su vida la perfección religiosa, no reencarnará nuevamente en un ser terrestre, hombre o animal, sino que irá al nirvana, especie de paraíso.

Los dioses del hinduismo son muchos, pero hay tres principales: Brahma, el dios creador; Visnú, el dios que conserva las cosas y Siva el dios destructor.



Compañero de la vida que percibe que uno vaca, considerado animal expiado, se aliamos con los prácticas que dice para la vaca.

* *Responde...*

ANALIZA

- ¿En qué consiste el hinduismo?
- ¿Crees que las ideas religiosas influyen en el modo de comportarse de las personas? ¿Por qué?

DESARROLLO HISTÓRICO



Escultura de Buda en Tikal, India.
Silencio Gautama, más conocido como Buda, nació hace el año 500 a. de C.

Evolución histórica

Las etapas de la historia de la India pueden ser resumidas así:

- La civilización del valle del Indo (4000 a 1500 a. de C.). También recibió el nombre de Harappa, que era uno de sus grandes centros urbanos. Se caracterizó por ser una cultura netamente urbana, con construcción de ciudades planificadas, edificaciones de más de un piso, utilización del ladrillo cocido y adobe, y grandes extensiones de alcantarillado. Fue un pueblo agricultor que canalizó el río y utilizó sus aguas para los cultivos.
- La época védica (1500 a 330 a. de C.). Se inició con el dominio de los arios sobre la civilización del valle del Indo, la cual arrasaron a su llegada.

Los arios eran un pueblo de pastores y guerreros que realizaron importantes aportes tales como la utilización del caballo, del hierro, de la lengua —el sánscrito— y de las creencias religiosas.

En su libro sagrado, los Vedas, se encuentran los principales elementos para comprender esta etapa. Las creencias religiosas contenidas en este libro recibieron el nombre de brahmanismo, que a su vez estuvo influenciado por las concepciones religiosas de la civilización anterior. La mezcla de estas creencias es lo que se conoce con el nombre de hinduismo.

- La época de los imperios (330 a. de C. a 500 d. de C.). Hacia el año 330 a. de C., los reyes hindúes se unieron para hacer frente a la invasión de los griegos dirigidos por Alejandro Magno.

La primera unificación la logró el rey Chandragulpta de la dinastía mauria, quien creó un imperio, dominando gran parte del territorio, basado en el brahmanismo.

Según esta religión los gobernados estaban divididos, desde su nacimiento, en clases sociales llamadas castas. En esta época aparecen movimientos políticos y religiosos opuestos al brahmanismo, siendo el más importante el budismo.

En el 400 a. de C., la India se unificó nuevamente bajo la dinastía de los gupta. Esta dinastía organizó el Estado, basándose también en el brahmanismo.

- Las invasiones (500 a 800 d. de C.). En el 450 d. de C., la India fue invadida por los hunos y luego por los musulmanes en el año 800.

Investiga

- ¿Cómo nació Buda en proceso de transformación personal?
- ¿Qué importancia tiene la meditación en la práctica de la doctrina budista?

Lea... AYER Y HOY

CONOCIMIENTOS DE AYER AL SERVICIO DEL HOMBRE DE HOY

A través de la historia, China se consideró como un país lejano y misterioso del cual los occidentales teníamos un vago conocimiento. Sin embargo, esa sabiduría acumulada a lo largo de miles de años de disciplina y observación, poco a poco comienza a penetrar los países occidentales, beneficiándonos a todos. Uno de estos aportes es la acupuntura.

En la actualidad, en cualquiera de nuestras ciudades, encontramos médicos especializados en este tipo de medicina, la cual muchas veces cura enfermedades que no pueden ser sanadas por la medicina tradicional. Por tanto, para muchas personas, esta milenaria ciencia china se constituye en la solución a sus problemas de salud.



La acupuntura: un aporte de China a Occidente.

Investiga:

- Infórmate de otro aporte chino al bienestar de la civilización occidental en la actualidad.

• Explique qué entendió VALORES

Lea...

FAMILIA Y TRADICIÓN



La familia: núcleo fundamental de cualquier civilización.

Respondo

- Lee el artículo mencionado y explica el aspecto del mismo que más te llamó la atención.

Tradicionalmente en China la institución familiar ha tenido una importancia capital en lo económico, social y político. Los jóvenes deben veneración y respeto a las personas mayores, conservan los lazos tradicionales de dependencia respecto del padre y la veneración de los antepasados.

En nuestro país la familia también es el núcleo fundamental de la sociedad. La Constitución política colombiana lo afirma en su artículo 42 al estipular que: "La familia es el núcleo fundamental de la sociedad".

Revelación bajo el árbol

El joven príncipe Gautama vivió en la India hace mucho tiempo. Era esposo, inteligente y muy rico y tenía una esposa muy bella. El príncipe disfrutaba comiendo, bebiendo y holgazaneando en su palacio.

Un día, en la calle, vio una figura que cojeaba. Era un anciano encorvado, que se apoyaba en un bastón. Más allá, el príncipe encontró a un joven, pálido y enfermo. Cerca, algo yacía en el suelo: era un cadáver.

Gautama estaba horrorizado. Nunca en toda su vida —tan feliz— había visto a nadie desdichado ni enfermo. Ahora se daba cuenta de que las vidas de la mayoría de las personas estaban llenas de tristezas y sufrimientos. ¿Por qué ocurría así? Decidió que debía descubrirlo. Aquella noche salió en secreto de su palacio. Dejó atrás su familia y sus riquezas y no volvió más. Se dedicó a vagar por el país buscando la respuesta a su pregunta, practicando el yogo y el ascetismo.

Muchos años después, sentado bajo un árbol frondoso, encontró su respuesta. Se dio cuenta de que la codicia es la causa de dolores y sufrimientos. Inmediatamente empezó a enseñar a los demás cómo librarse de la codicia. Las enseñanzas de Gautama se esparcieron por toda la India y el resto de Asia. Le llamaron Buda, que significa «el iluminado», y su religión se convirtió en una de las más importantes del mundo.



Buda descubrió el secreto de la paz interior. Por este motivo, las estatuas de Buda tienen siempre un expresión serena y sonriente.

Actividad

• Completa:

1. Siddhartha Gautama con los años recibió el nombre de _____ que significa _____.

2. Gautama nació siendo un _____.

3. Las estatuas de Buda siempre están _____ y _____.

4. Sentado bajo un árbol descubrió que la _____ era la causa de todas las _____ y _____.

5. El Budismo fue iniciado por _____.

• Busque una breve biografía de Buda y escribala en el recuadro, con su propia letra

CHINA: GEOGRAFÍA, ECONOMÍA Y SOCIEDAD



El pueblo chino es fundamentalmente agrícola.

Localización geográfica

China está ubicada en la parte oriental del continente asiático. A lo largo de su historia fue expandiendo su territorio hasta lograr la extensión actual.

Los límites de China son los siguientes: por el norte y oeste está rodeada por los montes y desiertos del Asia Central, al este por el océano Pacífico, y al sur por la cordillera del Himalaya. Estas circunstancias ayudan a explicar en parte su aislamiento.

Dada la gran extensión de su territorio, sus características geográficas son muy variadas. La zona norte es árida y de clima seco, mientras que la zona sur es montañosa, húmeda y fértil, con abundantes ríos y canales para el regadío; es por excelencia la tierra del arroz. El centro de China presenta llanuras fértiles con cultivos de maíz y trigo. Posee dos grandes ríos: el Yang-Tse Kiang (río Azul) y el Hoang-Ho (río Amarillo), que además de ser importantes para su economía, son sus principales vías de comunicación.

Economía

El pueblo chino es básicamente agrícola. Sus principales cultivos son el trigo, el maíz, el arroz y el mijo, una especie de cereal. En la domesticación de animales se destaca la cría de caballos.

El comercio ocupó un lugar muy especial con productos como el algodón, el papel, las armas, la porcelana y en especial la seda. Durante la Edad Media ésta era llevada por caravanas de mercaderes a través de la "Ruta de la Seda" que comunicaba el oriente de Asia con Europa.

La sociedad

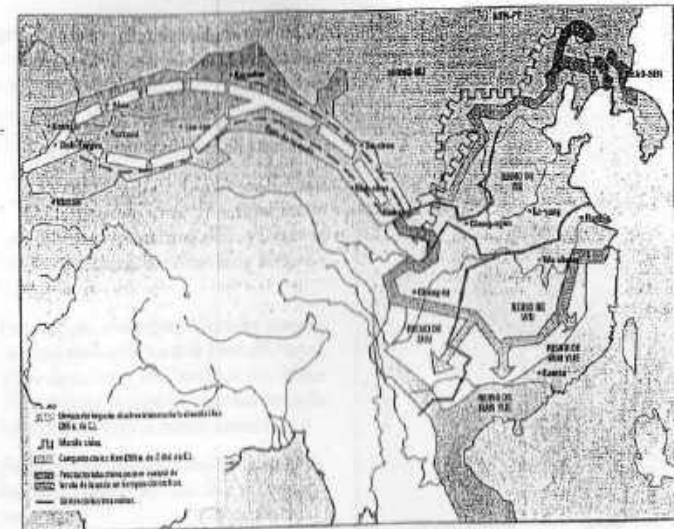
La organización social china siempre estuvo influenciada por sus tradiciones, filosofía y religión. Esta sociedad era de carácter patriarcal y con una acentuada jerarquización social: a la cabeza estaba el emperador, considerado de origen divino; le seguían la nobleza o *shih* y los mandarines. Luego venían los artesanos —kung— y los mercaderes —shang—, que no tenían las mismas riquezas que solían tener los mercaderes en otros pueblos, debido al papel que el Estado jugaba en la economía china. Al último grupo pertenecían los campesinos o *nung*, que eran la mayoría de la población y que se encargaban de la producción de los alimentos. El grupo de esclavos, estaba integrado por los prisioneros de guerra o por los chinos que no podían pagar sus deudas.

A los chinos les debemos cuatro grandes inventos que hicieron cambiar la marcha del mundo: el papel, la imprenta, la pólvora y la brújula.

* ¿Qué uso dieron los chinos a la pólvora y la brújula?

* ¿Qué impacto tuvo para el mundo antiguo la aparición de esos inventos?

MAPA DE LA CHINA EN TIEMPOS DE CRISTO



lea... UN PUEBLO AGRICULTOR

Los orígenes del pueblo chino son eminentemente agrícolas, inspirando la agricultura todas sus acciones. El chino se siente fuertemente relacionado con la naturaleza.

Confucio basó en la naturaleza su moral práctica; los motivos de decoración y de la pintura son la naturaleza.

Actualmente China sigue siendo un país agrícola, económica y socialmente.



Pueblos bajo los árboles (1630).

* Responda

ANALIZA

- ¿Qué relación encuentras entre el aislamiento de China y sus características geográficas?
- ¿Por qué crees que el chino era un pueblo eminentemente agrícola?